

PROVES D'ACCÉS A LA UNIVERSITAT

PRUEBAS DE ACCESO A LA UNIVERSIDAD

| | |
|---------------------------|--------------------------|
| CONVOCATÒRIA: JULIOL 2017 | CONVOCATORIA: JULIO 2017 |
| Assignatura: GEOGRAFIA | Asignatura: GEOGRAFÍA |

BAREM DE L'EXAMEN:

Pregunta 1^a-2,5 punts; pregunta 2^a-2 punts; pregunta 3^a-3 punts; pregunta 4^a-2,5 punts

BAREMO DEL EXAMEN:

Pregunta 1^a-2,5 puntos; pregunta 2^a-2 puntos; pregunta 3^a-3 puntos; pregunta 4^a-2,5 puntos

EXERCICI 2

1. Amb les dades del document 1, representeu el pes de la població urbana del 2011 a les comunitats autònomes espanyoles en el mapa annex.
2. A partir del mapa resultant de l'exercici anterior, identifiqueu correctament els contrastes territorials més acusats i descriviu les principals causes d'aquests.
3. El document 2 representa els principals espais amb i sense eixos urbans. Identifiqueu aquests, assenyalau les característiques generals i pròpies de cadascun dels eixos urbans espanyols, i enuncieu algunes de les seues principals ciutats.
4. El creixement de les ciutats espanyoles, i especialment les aglomeracions urbanes, presenten nombrosos problemes (econòmics, sociodemogràfics, ambientals, etc.). Indiqueu quins són aquests, les seues causes i com podrien solucionar-se.

EJERCICIO 2

1. Con los datos del documento 1 represente el peso de la población urbana de 2011 en las Comunidades Autónomas españolas en el mapa anexo.
2. A partir del mapa resultante del ejercicio anterior, identifique correctamente los contrastes territoriales más acusados y describa las principales causas de éstos.
3. El documento 2 representa los principales espacios con y sin ejes urbanos. Identifique éstos, señale las características generales y propias de cada uno de los ejes urbanos españoles, y enuncie algunas de sus principales ciudades.
4. El crecimiento de las ciudades españolas, y especialmente las aglomeraciones urbanas, presentan numerosos problemas (económicos, sociodemográficos, ambientales, etc.). Indique cuáles son éstos, sus causas y cómo podrían solucionarse.

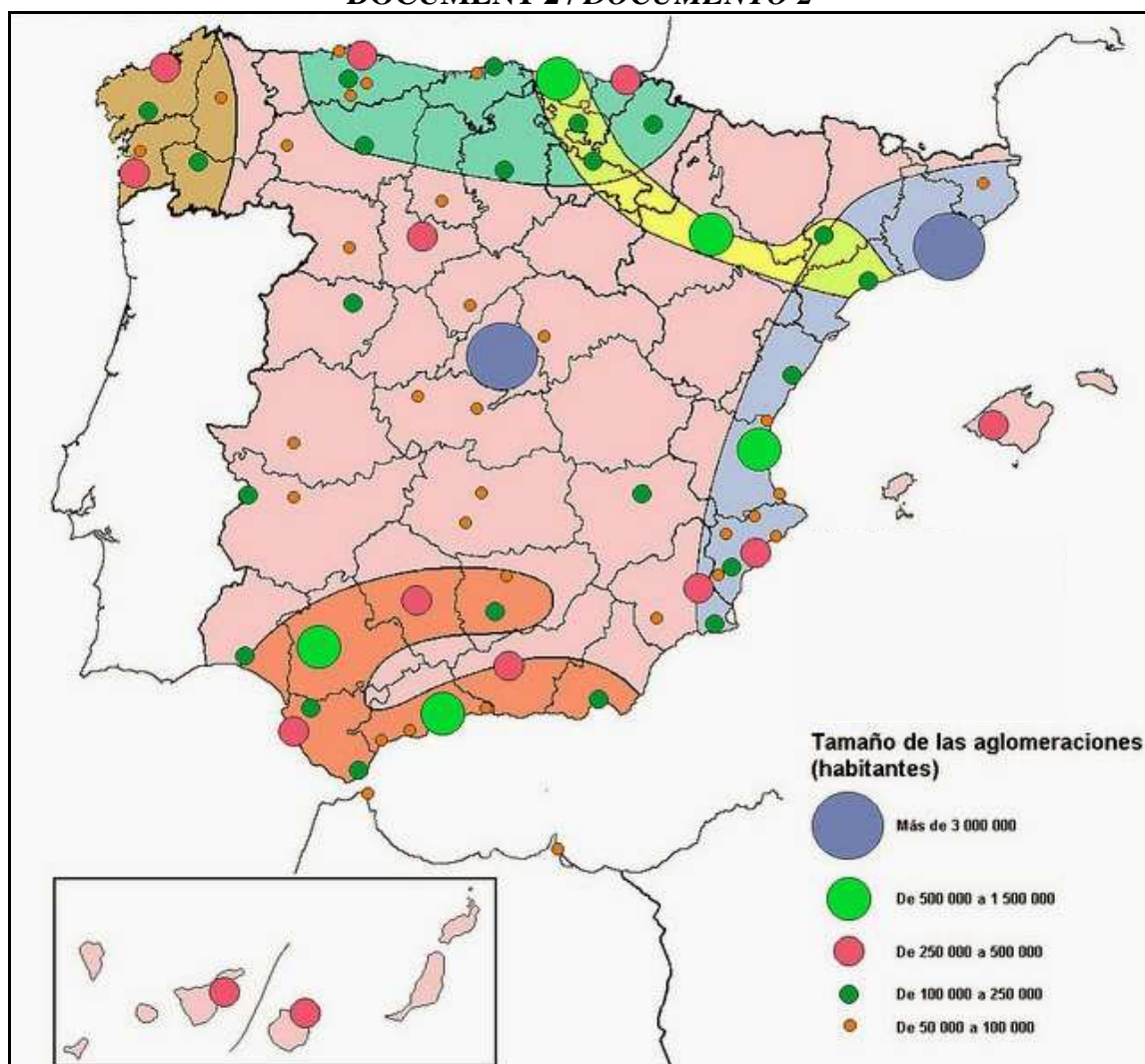
DOCUMENT 1 / DOCUMENTO 1

Porcentaje de población urbana por CC.AA. en 2011

| Comunidad Autónoma | Población urbana 2011 (residente en municipios >10.000 hab.) | Población total 2011 | % |
|------------------------------|--|----------------------|-------------|
| Andalucía | 6.728.738 | 8.424.102 | 79,9 |
| Aragón | 918.714 | 1.346.293 | 68,2 |
| Asturias (Principado de) | 936.780 | 1.081.487 | 86,6 |
| Baleares (Illes) | 939.336 | 1.113.114 | 84,4 |
| Canarias | 1.903.255 | 2.126.769 | 89,5 |
| Cantabria | 396.549 | 593.121 | 66,9 |
| Castilla y León | 1.434.318 | 2.558.463 | 56,1 |
| Castilla-La Mancha | 1.172.341 | 2.115.334 | 55,4 |
| Cataluña | 6.132.279 | 7.539.618 | 81,3 |
| Comunidad Valenciana | 4.233.056 | 5.117.190 | 82,7 |
| Extremadura | 541.626 | 1.109.367 | 48,8 |
| Galicia | 1.940.283 | 2.795.422 | 69,4 |
| Madrid (Comunidad de) | 6.113.527 | 6.489.680 | 94,2 |
| Murcia (Región de) | 1.413.374 | 1.470.069 | 96,1 |
| Navarra (Comunidad Foral de) | 350.105 | 642.051 | 54,5 |
| País Vasco | 1.768.577 | 2.184.606 | 81,0 |
| Rioja (La) | 203.713 | 322.955 | 63,1 |
| Ceuta | 82.376 | 82.376 | 100 |
| Melilla | 78.476 | 78.476 | 100 |
| TOTAL ESPAÑA: | 37.287.423 | 47.190.493 | 79,0 |

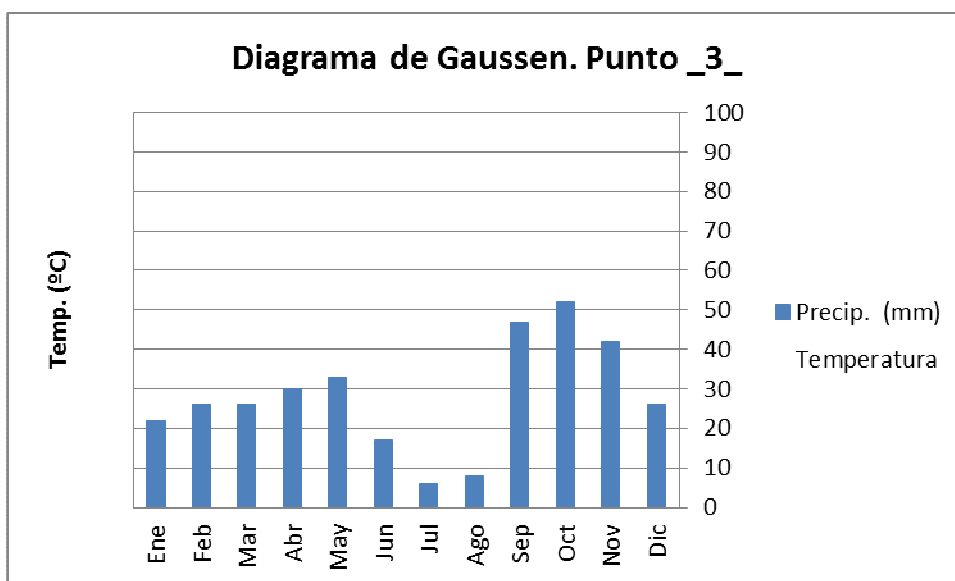
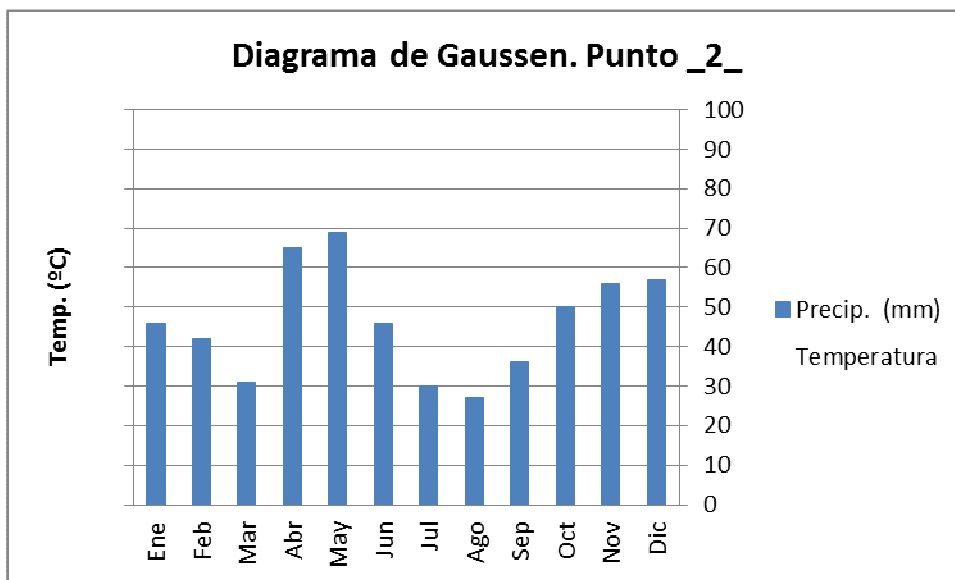
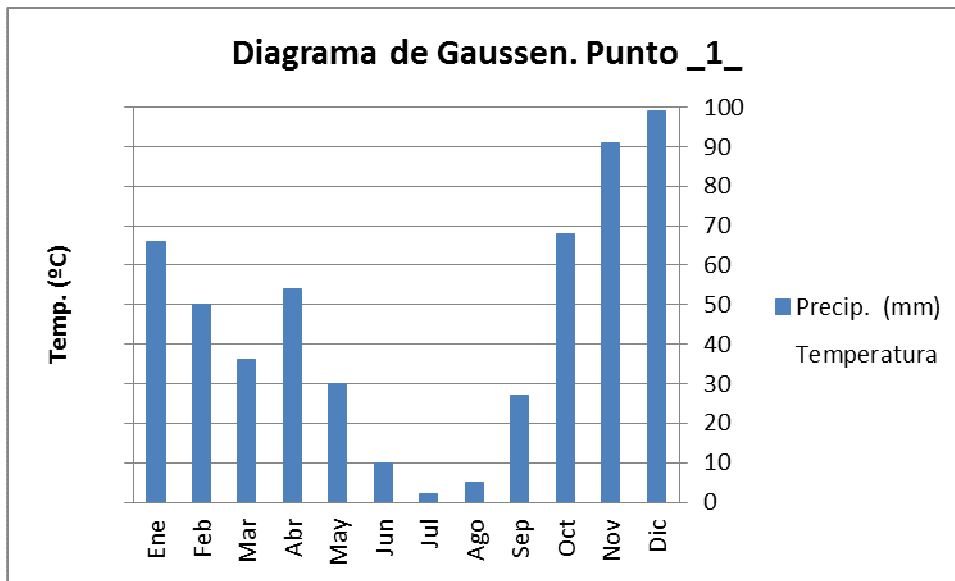
Font/Fuente: Censo de Población y Viviendas de 2011, Instituto Nacional de Estadística.

DOCUMENT 2 / DOCUMENTO 2



Font/Fuente: Adaptación Méndez, R. y Molinero, F. (1993).

DOCUMENT ANNEX/ DOCUMENTO ANEXO



PROVES D'ACCÉS A LA UNIVERSITAT

PRUEBAS DE ACCESO A LA UNIVERSIDAD

| | |
|----------------------------------|---------------------------------|
| CONVOCATÒRIA: JULIOL 2017 | CONVOCATORIA: JULIO 2017 |
| Assignatura: GEOGRAFIA | Asignatura: GEOGRAFÍA |

Etiqueta de l'estudiant / Etiqueta del estudiante

MAPA ANNEX/ MAPA ANEXO

